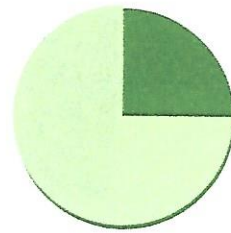
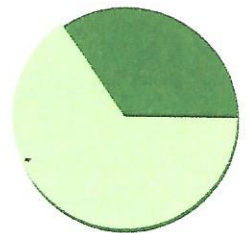


spitzer Winkel

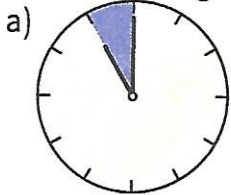


rechter Winkel

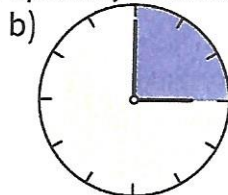


stumpfer Winkel

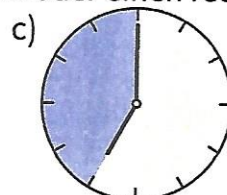
1. Bilden die Zeiger einen spitzen, einen stumpfen oder einen rechten Winkel?



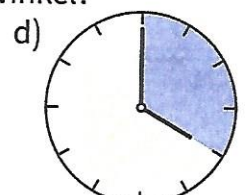
spitzer Winkel



rechter Winkel

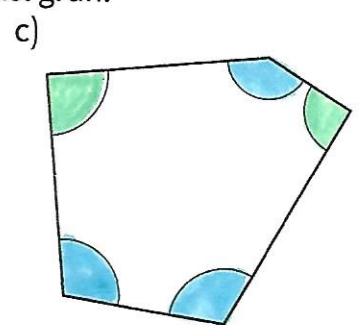
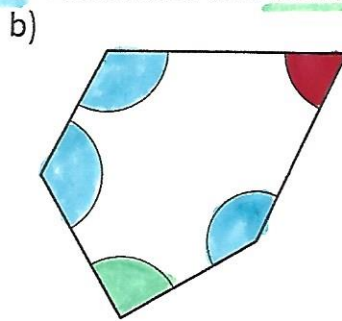
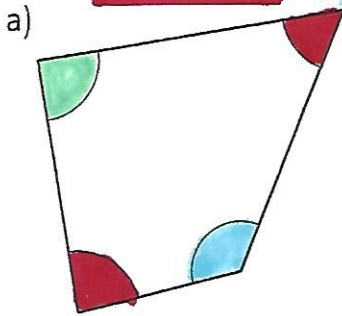


stumpfer Winkel



stumpfer Winkel

2. Färbe spitze Winkel rot, stumpfe Winkel blau und rechte Winkel grün.



3. Winkel werden mit griechischen Buchstaben bezeichnet:
 α (alpha, sprich: alfa), β (beta), γ (gamma)

α β γ
 α β γ

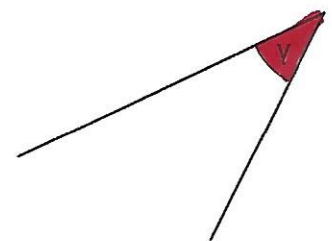
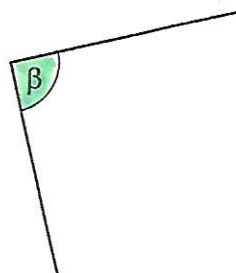
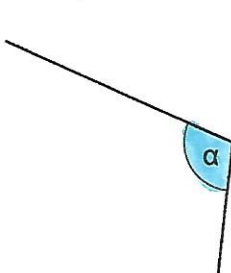
α α α α α α

β β β β

γ γ γ γ

→ übe fleißig!

4. Welcher Winkel ist ein spitzer Winkel, welcher ist ein rechter Winkel, welcher ist ein stumpfer Winkel? Trage ein.



● spitzer Winkel: γ

● stumpfer Winkel: α

● rechter Winkel: β